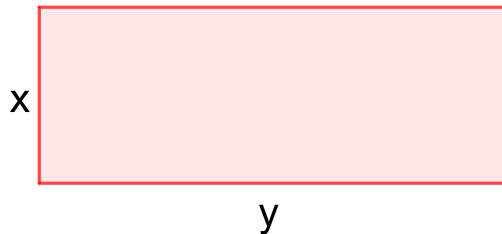


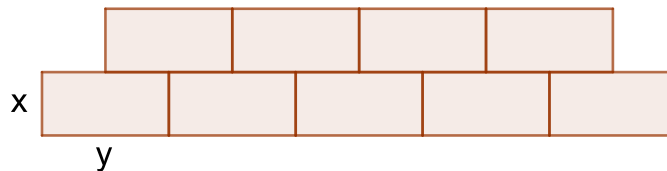


Προβλήματα με μονώνυμα II

1) Να γράψετε το εμβαδόν του παρακάτω ορθογωνίου.

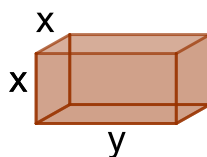


2) Χτίζουμε έναν τοίχο με ορθογώνια τουβλάκια.



α) Ποιο είναι το εμβαδόν του τοίχου αν χρησιμοποιήσουμε 80 τέτοια τουβλάκια;

β) Αν επιπλέον το κάθε τουβλάκι έχει πλάτος x , ποιος είναι ο συνολικός όγκος του τοίχου;



3) Το λάδι έχει τιμή λιανικής πώλησης x ευρώ το κιλό.

Ένα ελαιοτριβείο πουλάει το λάδι σε τιμή χοντρικής $0,6x$ ευρώ το κιλό.

α) Ποια είναι η λιανική και η χονδρική τιμή y κιλών λαδιού;

β) Ποια είναι η διαφορά λιανικής και χονδρικής τιμής a κιλών λαδιού;

ΠΛΗΡΟΦΟΡΙΑΚΑ ΣΤΟΙΧΕΙΑ

ΤΙΤΛΟΣ: Προβλήματα με μονώνυμα II

ΣΧΕΔΙΑΣΜΟΣ / ΔΗΜΙΟΥΡΓΙΑ / ΤΕΧΝΙΚΗ ΥΛΟΠΟΙΗΣΗ:

Δημήτρης Διαμαντίδης

Ελισσάβετ Καλογερία

Ειρήνη Πεрусινάκη

Γιάννης Σταμπόλας

Κώστας Στουραΐτης

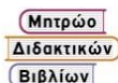
Βαγγέλης Φακούδης

Γιώργος Ψυχάρης

ΕΚΔΟΣΗ: 1.0

ΗΜΕΡΟΜΗΝΙΑ: 28-12-2024

Το παρόν αναπτύχθηκε στο πλαίσιο της Πράξης «Συγγραφή, Αξιολόγηση και Ένταξη διδακτικών βιβλίων στο Μητρώο Διδακτικών Βιβλίων και στην Ψηφιακή Βιβλιοθήκη Διδακτικών Βιβλίων» με κωδικό ΟΠΣ (MIS) 6010165, του Προγράμματος «Ανθρώπινο Δυναμικό και Κοινωνική Συνοχή 2021-2027» που υλοποιείται από το Ινστιτούτο Εκπαιδευτικής Πολιτικής και συγχρηματοδοτείται από το Ευρωπαϊκό Κοινωνικό Ταμείο.



ΕΛΛΗΝΙΚΗ ΔΗΜΟΚΡΑΤΙΑ
Υπουργείο Παιδείας, Θρησκευμάτων
και Αθλητισμού



Με τη συγχρηματοδότηση
της Ευρωπαϊκής Ένωσης



Πρόγραμμα
Ανθρώπινο Δυναμικό και
Κοινωνική Συνοχή