

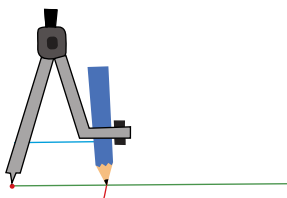
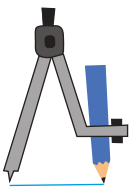
ΚΕΦΑΛΑΙΟ 2 ΤΡΙΓΩΝΑ

2.2

ΦΥΛΛΟ ΕΡΓΑΣΙΑΣ ΓΙΑ ΚΑΤΑΣΚΕΥΕΣ

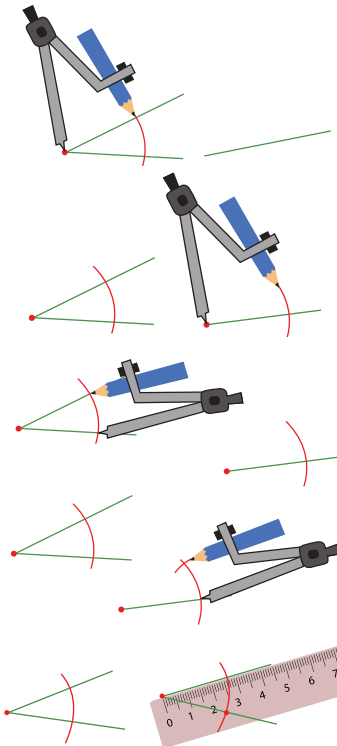
ΚΑΤΑΣΚΕΥΗ ΕΥΘΥΓΡΑΜΜΟΥ ΤΜΗΜΑΤΟΣ ΙΣΟΥ ΜΕ ΑΛΛΟ

ΠΑΡΑΤΗΡΗΣΤΕ



ΚΑΤΑΣΚΕΥΑΣΤΕ


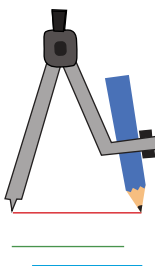
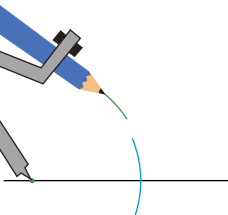
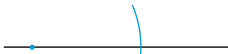
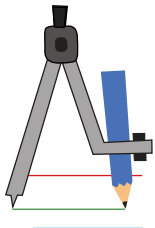
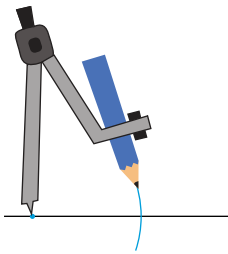
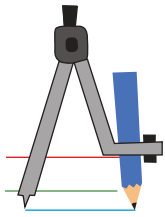
ΠΑΡΑΤΗΡΗΣΤΕ



ΚΑΤΑΣΚΕΥΑΣΤΕ

ΚΑΤΑΣΚΕΥΗ ΤΡΙΓΩΝΟΥ ΟΤΑΝ ΔΙΝΟΝΤΑΙ ΟΙ ΠΛΕΥΡΕΣ ΤΟΥ

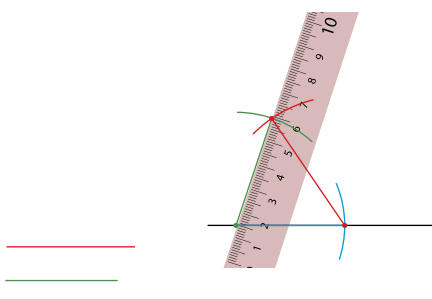
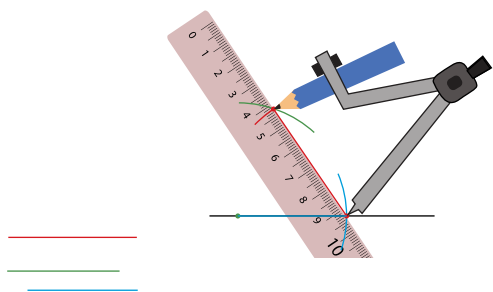
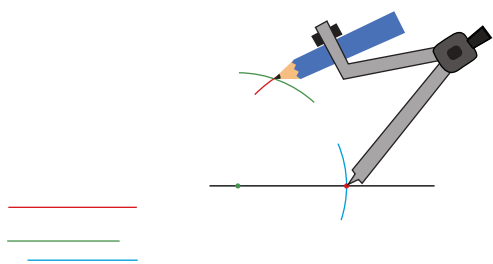
ΠΑΡΑΤΗΡΗΣΤΕ



ΚΑΤΑΣΚΕΥΑΣΤΕ

(με μήκη πλευρών 4cm, 5cm, 6cm)

ΠΑΡΑΤΗΡΗΣΤΕ



ΚΑΤΑΣΚΕΥΑΣΤΕ

Δοκιμάστε να κατασκευάσετε τρίγωνο με πλευρές 2cm, 3cm και 7cm. Τι παρατηρείτε;