




Μαθηματικό ημερολόγιο

Μπορείς να χωρίσεις τα 20 μήλα σε ομάδες με δύο διαφορετικούς τρόπους; Πόσα μήλα θα έχει κάθε φορά η κάθε ομάδα;



Μπορώ να δημιουργήσω _____ ίσες ομάδες. Κάθε ομάδα θα έχει _____ μήλα.

Μπορώ να δημιουργήσω _____ ίσες ομάδες. Κάθε ομάδα θα έχει _____ μήλα.

Υπάρχει άλλος τρόπος;

Μπορώ να δημιουργήσω _____ ίσες ομάδες. Κάθε ομάδα θα έχει _____ μήλα.

Παιχνίδι

Ποιοι από τους αριθμούς έχουν:

7 μονάδες

54	32
70	87
	7
30	
27	28

6 δεκάδες

53	64
46	38
	6
56	
68	16

Μόνο μονάδες

53	64
4	38
	7
56	
8	15


Μόνο δεκάδες

50	60
40	38
	7
56	
8	13


Χρωμάτισε τα σωστά.

Συλλογίζομαι

Ποιο από τα αποτελέσματα είναι σωστο; Χρησιμοποίησε τα τετράγωνα, για να βρεις το αποτέλεσμα. Να εξηγήσεις τον τρόπο που σκέφτηκες.



$$5+5+5+5+5=30$$



$$6 \text{ φορές το } 5 = 30$$

Πληροφοριακά στοιχεία

Τίτλος: Διαλέγω αριθμούς και χωρίζω σε ίσα μέρη

Επιστημονικός Υπεύθυνος: Χαράλαμπος Λεμονίδης

Σχεδιασμός – Δημιουργία: Γενοβέφα Τσιρικήδου

Έκδοση: 1.0

Ημερομηνία: 2-5-2025

Το παρόν αναπτύχθηκε στο πλαίσιο της Πράξης «Συγγραφή, Αξιολόγηση και Ένταξη διδακτικών βιβλίων στο Μητρώο Διδακτικών Βιβλίων και στην Ψηφιακή Βιβλιοθήκη Διδακτικών Βιβλίων» με κωδικό ΟΠΣ (MIS) 6010165, του Προγράμματος «Ανθρώπινο Δυναμικό και Κοινωνική Συνοχή 2021-2027» που υλοποιείται από το Ινστιτούτο Εκπαιδευτικής Πολιτικής και συγχρηματοδοτείται από το Ευρωπαϊκό Κοινωνικό Ταμείο.



ΕΛΛΗΝΙΚΗ ΔΗΜΟΚΡΑΤΙΑ
Υπουργείο Παιδείας, Θρησκευμάτων
και Αθλητισμού



Με τη συγχρηματοδότηση
της Ευρωπαϊκής Ένωσης



Πρόγραμμα
Ανθρώπινο Δυναμικό και
Κοινωνική Συνοχή