








## Συμπληρώνω και διαβάζω πίνακες με δεδομένα

- 1 Στη γιορτή ενός Δημοτικού της Θεσσαλονίκης συμμετείχαν παιδιά διαφόρων ηλικιών σύμφωνα με τον παρακάτω πίνακα. Συμπληρώνω το σημειόγραμμα βάζοντας X για κάθε παιδί που συμμετείχε. Πόσα ήταν όλα τα παιδιά από 6-15 χρονών που πήραν μέρος στη γιορτή;

Ηλικία Παιδιά

6-7	15					
8-9	12					
10-11	14					
12-13	9					
14-15	6	 6 - 7	 8 - 9	 10 - 11	 12 - 13	 14 - 15

Στη γιορτή συμμετείχαν \_\_\_\_\_ παιδιά.

- 2 Μια ημέρα σε μια κατασκήνωση τα παιδιά έφαγαν: 12 μήλα, 8 αχλάδια, 4 πεπόνια και 2 καρπούζια. Συμπληρώνω το σημειόγραμμα.

Φρούτα	Αριθμός φρούτων
Μήλα	
Αχλάδια	
Πεπόνια	
Καρπούζια	

## Πληροφοριακά στοιχεία

**Τίτλος:** Συμπληρώνω και διαβάζω πίνακες με δεδομένα

**Επιστημονικός Υπεύθυνος:** Χαράλαμπος Λεμονίδης

**Σχεδιασμός – Δημιουργία:** Γενοβέφα Τσιρικίδου

**Έκδοση:** 1.0

**Ημερομηνία:** 2-5-2025

Το παρόν αναπτύχθηκε στο πλαίσιο της Πράξης «Συγγραφή, Αξιολόγηση και Ένταξη διδακτικών βιβλίων στο Μητρώο Διδακτικών Βιβλίων και στην Ψηφιακή Βιβλιοθήκη Διδακτικών Βιβλίων» με κωδικό ΟΠΣ (MIS) 6010165, του Προγράμματος «Ανθρώπινο Δυναμικό και Κοινωνική Συνοχή 2021-2027» που υλοποιείται από το Ινστιτούτο Εκπαιδευτικής Πολιτικής και συγχρηματοδοτείται από το Ευρωπαϊκό Κοινωνικό Ταμείο.



ΕΛΛΗΝΙΚΗ ΔΗΜΟΚΡΑΤΙΑ  
Υπουργείο Παιδείας, Θρησκευμάτων  
και Αθλητισμού



Με τη συγχρηματοδότηση  
της Ευρωπαϊκής Ένωσης



Πρόγραμμα  
Ανθρώπινο Δυναμικό και  
Κοινωνική Συνοχή