



1

Οι βαθμοί της Μαρίνας στα 10 μαθήματα της Α΄ Γυμνασίου είναι οι εξής:

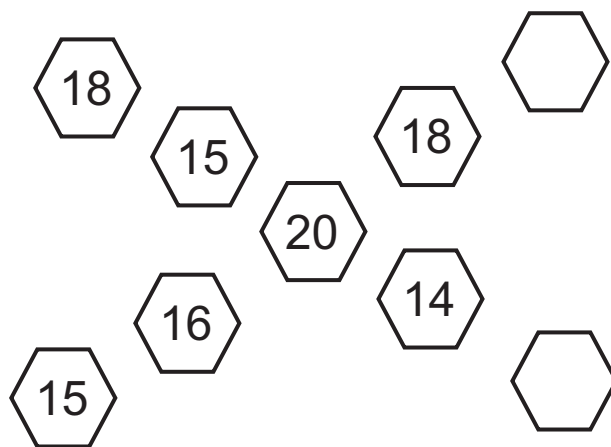
15, 16, 18, 19, 17, 20, 16, 18, 16, 20

Ποιος είναι ο μέσος όρος της βαθμολογίας της;

Ο μέσος όρος της βαθμολογίας της είναι _____

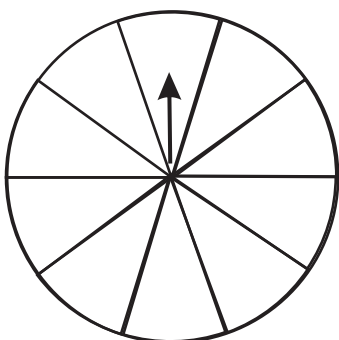
2

Συμπληρώνω τους αριθμούς που λείπουν, έτσι ώστε ο μέσος όρος σε κάθε διαγώνιο να είναι 17



3

Σκιάζω με το μολύβι μου τον παρακάτω τροχό της τύχης σύμφωνα με την οδηγία που ακολουθεί:



Η πιθανότητα το βέλος να σταματήσει στο σκιασμένο μέρος είναι $\frac{3}{10}$.

Πληροφοριακά στοιχεία

Τίτλος: Στατιστική - πιθανότητες


Επιστημονικός Υπεύθυνος: Χαράλαμπος Λεμονίδης

Σχεδιασμός – Δημιουργία: Ιωάννα Καϊάφα

Έκδοση: 1.0

Ημερομηνία: 2-5-2025

Το παρόν αναπτύχθηκε στο πλαίσιο της Πράξης «Συγγραφή, Αξιολόγηση και Ένταξη διδακτικών βιβλίων στο Μητρώο Διδακτικών Βιβλίων και στην Ψηφιακή Βιβλιοθήκη Διδακτικών Βιβλίων» με κωδικό ΟΠΣ (MIS) 6010165, του Προγράμματος «Ανθρώπινο Δυναμικό και Κοινωνική Συνοχή 2021-2027» που υλοποιείται από το Ινστιτούτο Εκπαιδευτικής Πολιτικής και συγχρηματοδοτείται από το Ευρωπαϊκό Κοινωνικό Ταμείο.



ΕΛΛΗΝΙΚΗ ΔΗΜΟΚΡΑΤΙΑ
Υπουργείο Παιδείας, Θρησκευμάτων
και Αθλητισμού



Με τη συγχρηματοδότηση
της Ευρωπαϊκής Ένωσης



Πρόγραμμα
Ανθρώπινο Δυναμικό και
Κοινωνική Συνοχή