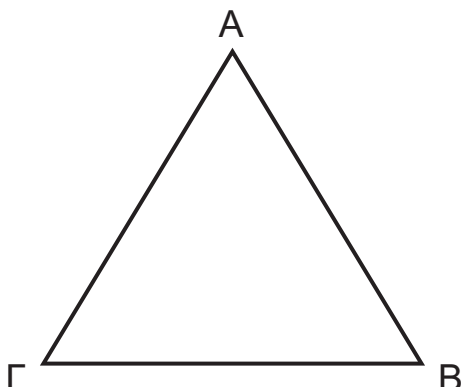




Γεωμετρία Επιπέδου και Χώρου

- 1 Το τρίγωνο ABΓ έχει περίμετρο 30 cm. Η πλευρά AB έχει μήκος 9,5 cm και η πλευρά ΒΓ έχει μήκος 11 cm. Τι είδους τρίγωνο είναι;



Κυκλώνω το σωστό:

A. Ισόπλευρο

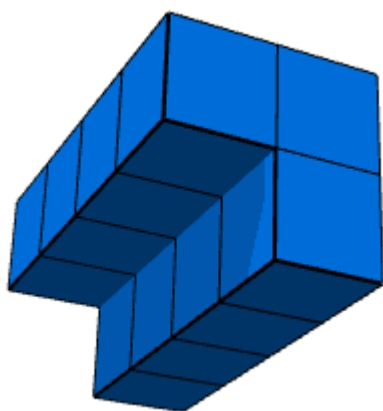
B. Ισοσκελές

Γ. Σκαληνό


- 2 Κυκλώνω τις τριάδες των γωνιών που μπορεί να αποτελούν τις γωνίες ενός τριγώνου.

α) $60^\circ, 60^\circ, 60^\circ$ β) $120^\circ, 55^\circ, 35^\circ$ γ) $90^\circ, 45^\circ, 45^\circ$ δ) $85^\circ, 45^\circ, 55^\circ$


- 3 Κυκλώνω τις οπτικές που συνδέονται με τη σύνθεση από κύβους.



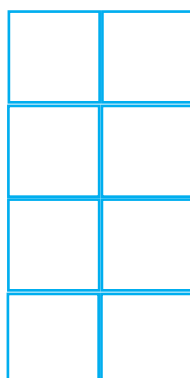
(α)



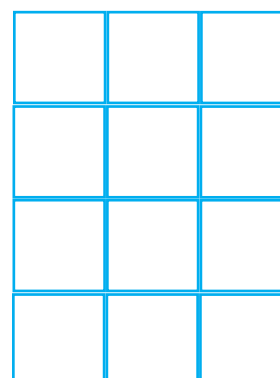
(β)



(γ)



(δ)



(ε)



Πληροφοριακά στοιχεία

Τίτλος: Γεωμετρία Επιπέδου και Χώρου


Επιστημονικός Υπεύθυνος: Χαράλαμπος Λεμονίδης

Σχεδιασμός – Δημιουργία: Ιωάννα Καϊάφα

Έκδοση: 1.0

Ημερομηνία: 2-5-2025

Το παρόν αναπτύχθηκε στο πλαίσιο της Πράξης «Συγγραφή, Αξιολόγηση και Ένταξη διδακτικών βιβλίων στο Μητρώο Διδακτικών Βιβλίων και στην Ψηφιακή Βιβλιοθήκη Διδακτικών Βιβλίων» με κωδικό ΟΠΣ (MIS) 6010165, του Προγράμματος «Ανθρώπινο Δυναμικό και Κοινωνική Συνοχή 2021-2027» που υλοποιείται από το Ινστιτούτο Εκπαιδευτικής Πολιτικής και συγχρηματοδοτείται από το Ευρωπαϊκό Κοινωνικό Ταμείο.



ΕΛΛΗΝΙΚΗ ΔΗΜΟΚΡΑΤΙΑ
Υπουργείο Παιδείας, Θρησκευμάτων
και Αθλητισμού



Με τη συγχρηματοδότηση
της Ευρωπαϊκής Ένωσης



Πρόγραμμα
Ανθρώπινο Δυναμικό και
Κοινωνική Συνοχή