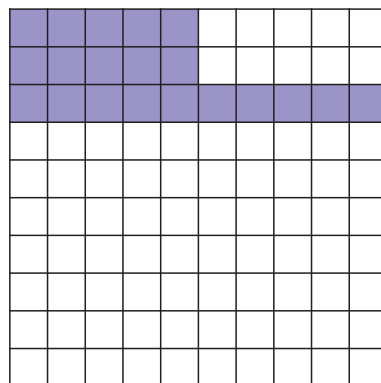
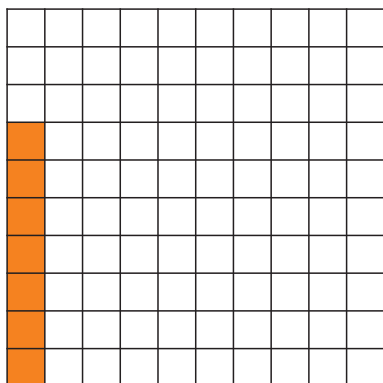






Τα ποσοστά


- 1 Βρίσκω και γράφω με τη μορφή ποσοστού το μέρος του πλαισίου των εκατοστών που είναι χρωματισμένο.




- 2 Σχηματίζω τα ποσοστά χρωματίζοντας τα πλαίσια με τον κατάλληλο τρόπο.



34%



2%



88%

- 3 Σε ένα σχολείο φοιτούν 200 παιδιά. Το 45% των παιδιών είναι αγόρια. Το 35% των παιδιών παίζει βόλεϊ. Το 27% των παιδιών μαθαίνει ένα μουσικό όργανο.

Πόσα είναι τα αγόρια στο σχολείο;

Πόσα παιδιά παίζουν βόλεϊ;

Πόσα παιδιά μαθαίνουν ένα μουσικό όργανο;

Πληροφοριακά στοιχεία

Τίτλος: Τα ποσοστά

Επιστημονικός Υπεύθυνος: Χαράλαμπος Λεμονίδης

Σχεδιασμός – Δημιουργία: Ιωάννα Καϊάφα

Έκδοση: 1.0

Ημερομηνία: 2-5-2025

Το παρόν αναπτύχθηκε στο πλαίσιο της Πράξης «Συγγραφή, Αξιολόγηση και Ένταξη διδακτικών βιβλίων στο Μητρώο Διδακτικών Βιβλίων και στην Ψηφιακή Βιβλιοθήκη Διδακτικών Βιβλίων» με κωδικό ΟΠΣ (MIS) 6010165, του Προγράμματος «Ανθρώπινο Δυναμικό και Κοινωνική Συνοχή 2021-2027» που υλοποιείται από το Ινστιτούτο Εκπαιδευτικής Πολιτικής και συγχρηματοδοτείται από το Ευρωπαϊκό Κοινωνικό Ταμείο.



ΕΛΛΗΝΙΚΗ ΔΗΜΟΚΡΑΤΙΑ
Υπουργείο Παιδείας, Θρησκευμάτων
και Αθλητισμού



Με τη συγχρηματοδότηση
της Ευρωπαϊκής Ένωσης



Πρόγραμμα
Ανθρώπινο Δυναμικό και
Κοινωνική Συνοχή