




## Ισορροπία χωρίς αριθμούς

- 1 Ποια σχέση με σύμβολα μπορώ να γράψω για τη ζυγαριά; Διαλέγω και συμπληρώνω ένα από τα σύμβολα ( $<$ ,  $=$ ,  $>$ ).

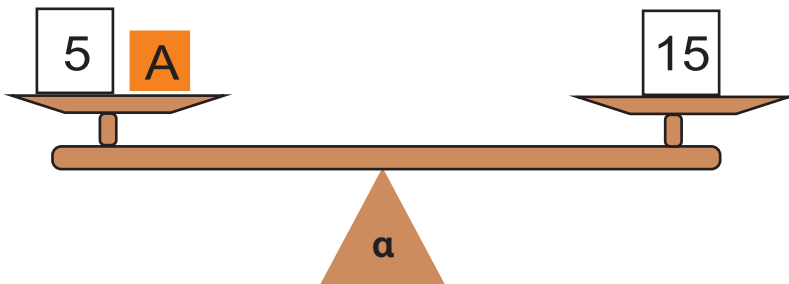


α)  $A$   $25$

β)  $A + 10$   $25 + 10$

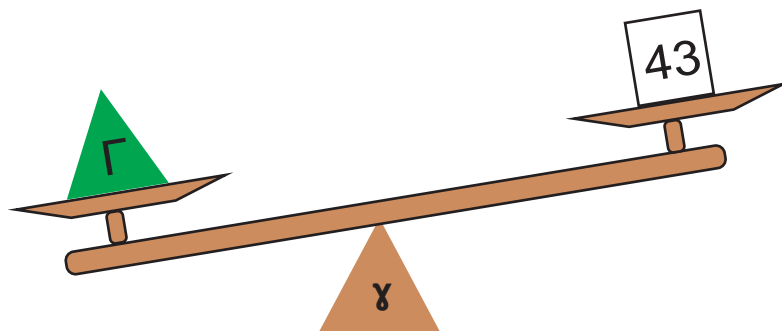
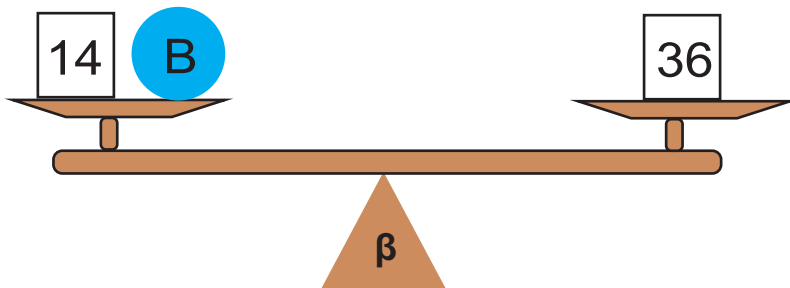
γ)  $A - 5$   $25 - 5$

- 2 Παρατηρώ κάθε φορά τη ζυγαριά και γράφω μια σχέση με σύμβολα.



$$A + 5 = \underline{\quad}$$

$$A = \underline{\quad}$$



## Πληροφοριακά στοιχεία

**Τίτλος: Ισορροπία χωρίς αριθμούς**

**Επιστημονικός Υπεύθυνος: Χαράλαμπος Λεμονίδης**

**Σχεδιασμός – Δημιουργία: Σοφία Τσελεπή**

**Έκδοση: 1.0**

**Ημερομηνία: 2-5-2025**

Το παρόν αναπτύχθηκε στο πλαίσιο της Πράξης «Συγγραφή, Αξιολόγηση και Ένταξη διδακτικών βιβλίων στο Μητρώο Διδακτικών Βιβλίων και στην Ψηφιακή Βιβλιοθήκη Διδακτικών Βιβλίων» με κωδικό ΟΠΣ (MIS) 6010165, του Προγράμματος «Ανθρώπινο Δυναμικό και Κοινωνική Συνοχή 2021-2027» που υλοποιείται από το Ινστιτούτο Εκπαιδευτικής Πολιτικής και συγχρηματοδοτείται από το Ευρωπαϊκό Κοινωνικό Ταμείο.



ΕΛΛΗΝΙΚΗ ΔΗΜΟΚΡΑΤΙΑ  
Υπουργείο Παιδείας, Θρησκευμάτων  
και Αθλητισμού



Με τη συγχρηματοδότηση  
της Ευρωπαϊκής Ένωσης



Πρόγραμμα  
Ανθρώπινο Δυναμικό και  
Κοινωνική Συνοχή