



# Δημιουργώ κλάσματα στην αριθμογραμμή

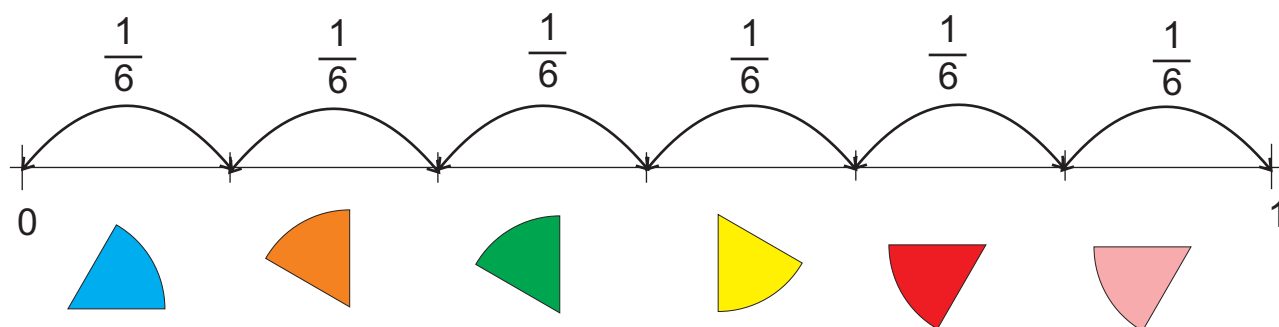
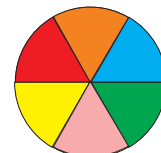
1

Φτιάχνουμε μια αριθμογραμμή με έκτα.

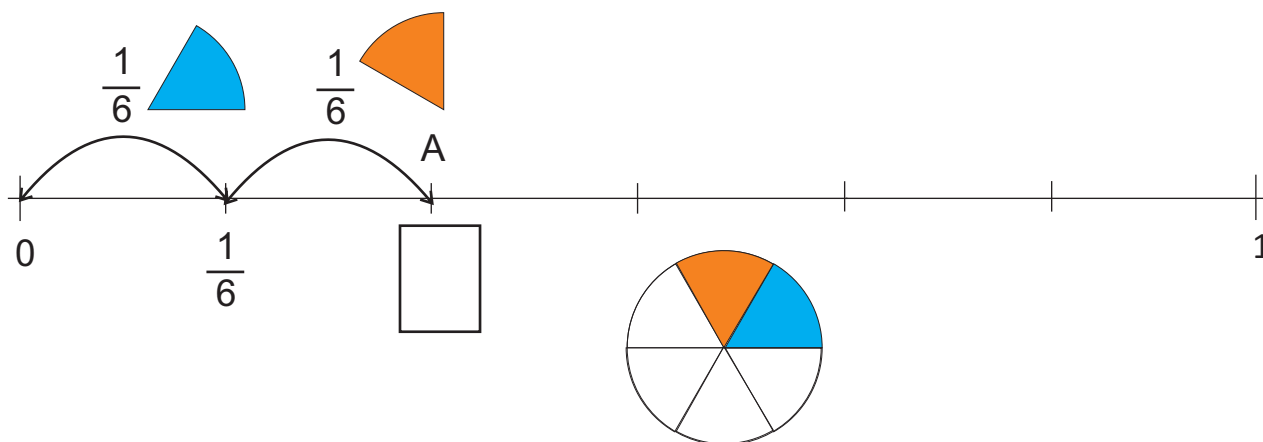
Χαράζουμε μια γραμμή και στις άκρες σημειώνουμε το 0 και το 1.



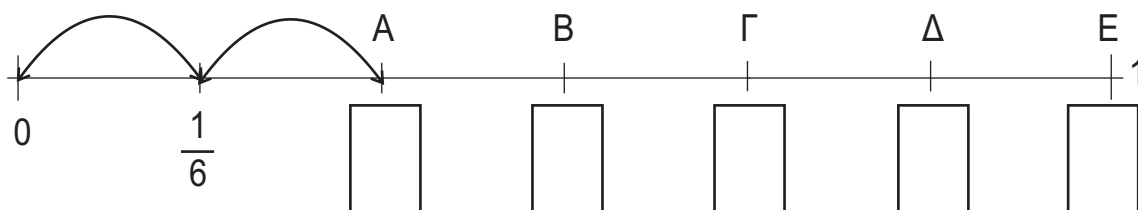
Χωρίζουμε την απόσταση από το 0 μέχρι το 1 σε έξι ίσα μέρη. Κάθε ίσο μέρος δείχνει μια απόσταση ίση με το  $\frac{1}{6}$ .



α) Συμπληρώνω το κλάσμα που αντιστοιχεί στο σημείο A.



β) Συμπληρώνω τα κλάσματα που αντιστοιχούν στα σημεία A, B, Γ, Δ και E.



## Πληροφοριακά στοιχεία

**Τίτλος:** Δημιουργώ κλάσματα στην αριθμογραμμή

**Επιστημονικός Υπεύθυνος:** Χαράλαμπος Λεμονίδης

**Σχεδιασμός – Δημιουργία:** Γενοβέφα Τσιρικήδου

**Έκδοση:** 1.0

**Ημερομηνία:** 2-5-2025

Το παρόν αναπτύχθηκε στο πλαίσιο της Πράξης «Συγγραφή, Αξιολόγηση και Ένταξη διδακτικών βιβλίων στο Μητρώο Διδακτικών Βιβλίων και στην Ψηφιακή Βιβλιοθήκη Διδακτικών Βιβλίων» με κωδικό ΟΠΣ (MIS) 6010165, του Προγράμματος «Ανθρώπινο Δυναμικό και Κοινωνική Συνοχή 2021-2027» που υλοποιείται από το Ινστιτούτο Εκπαιδευτικής Πολιτικής και συγχρηματοδοτείται από το Ευρωπαϊκό Κοινωνικό Ταμείο.



ΕΛΛΗΝΙΚΗ ΔΗΜΟΚΡΑΤΙΑ  
Υπουργείο Παιδείας, Θρησκευμάτων  
και Αθλητισμού

ΙΕΠ  
ΙΝΣΤΙΤΟΥΤΟ  
ΕΚΠΑΙΔΕΥΤΙΚΗΣ  
ΠΟΛΙΤΙΚΗΣ



Με τη συγχρηματοδότηση  
της Ευρωπαϊκής Ένωσης

ΕΣΠΑ  
2021-2027

Πρόγραμμα  
Ανθρώπινο Δυναμικό και  
Κοινωνική Συνοχή