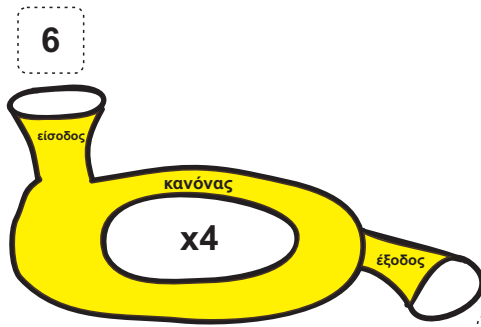


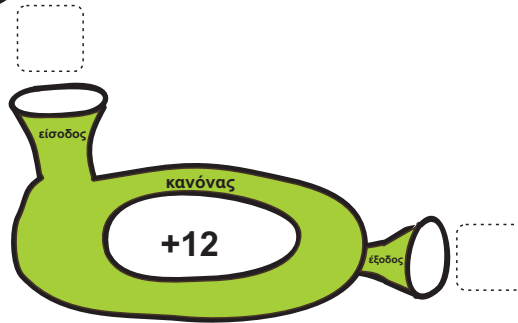


Μηχανές Συνάρτησης

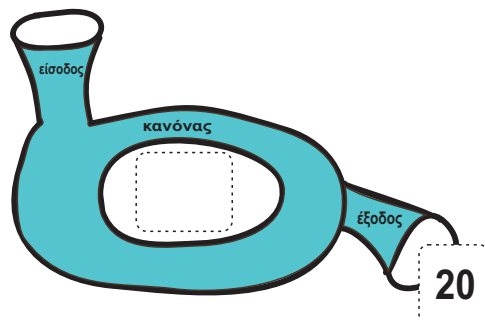
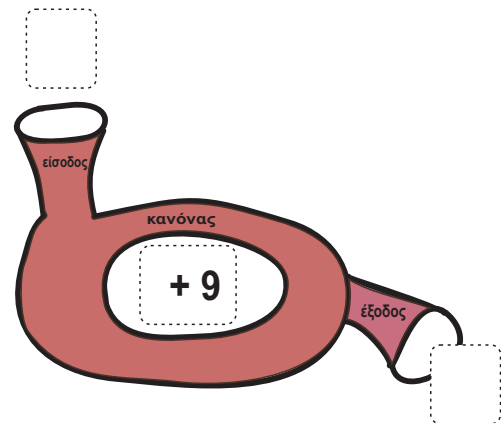
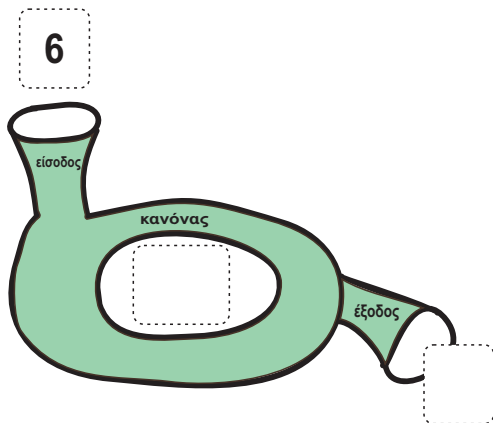
- 1) Υπάρχουν δυο μηχανές. Βάζω στην είσοδο της κίτρινης μηχανής τον αριθμό 6. Ποιος αριθμός θα βγει στην έξοδο; Ποιος αριθμός θα βγει στην έξοδο της πράσινης; Συμπληρώνω τον πίνακα.



είσοδος	κανόνας	έξοδος και είσοδος	κανόνας	έξοδος
6	$\times 4$		$+12$	
10	$\times 4$		$+12$	
	$\times 4$		$+12$	



- 2) Σε κάθε μηχανή συμπληρώνω αυτά που λείπουν (είσοδο, έξοδο, κανόνα):



Πληροφοριακά στοιχεία

Τίτλος: Μηχανές συνάρτησης


Επιστημονικός Υπεύθυνος: Χαράλαμπος Λεμονίδης

Σχεδιασμός – Δημιουργία: Σοφία Τσελεπή

Έκδοση: 1.0

Ημερομηνία: 2-5-2025

Το παρόν αναπτύχθηκε στο πλαίσιο της Πράξης «Συγγραφή, Αξιολόγηση και Ένταξη διδακτικών βιβλίων στο Μητρώο Διδακτικών Βιβλίων και στην Ψηφιακή Βιβλιοθήκη Διδακτικών Βιβλίων» με κωδικό ΟΠΣ (MIS) 6010165, του Προγράμματος «Ανθρώπινο Δυναμικό και Κοινωνική Συνοχή 2021-2027» που υλοποιείται από το Ινστιτούτο Εκπαιδευτικής Πολιτικής και συγχρηματοδοτείται από το Ευρωπαϊκό Κοινωνικό Ταμείο.



ΕΛΛΗΝΙΚΗ ΔΗΜΟΚΡΑΤΙΑ
Υπουργείο Παιδείας, Θρησκευμάτων
και Αθλητισμού



Με τη συγχρηματοδότηση
της Ευρωπαϊκής Ένωσης



Πρόγραμμα
Ανθρώπινο Δυναμικό και
Κοινωνική Συνοχή