


Βρίσκω τα αριθμητικά γεγονότα στην πρόσθεση και αφαίρεση

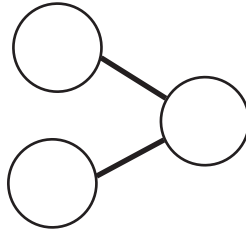


1

Μέσα στο κουτί υπάρχουν 9 αυτοκινητάκια. Πόσα είναι όλα;



Συμπληρώνω το διάγραμμα.



Συμπληρώνω τους αριθμούς στην οικογένεια των πράξεων.

$$\square + 3 = \square$$


$$\square - 9 = \square$$

$$\square + \square = \square$$

$$\square - \square = \square$$

2

α) Έχω 12 αυγά. Αν σπάσω τα 8 για ομελέτα, πόσα θα μείνουν;



$$\square - \square = \square$$

β) Ποιες άλλες πράξεις μπορώ να κάνω για να ελέγξω την απάντηση;

Πληροφοριακά στοιχεία

Τίτλος: Βρίσκω τα αριθμητικά γεγονότα στην πρόσθεση και αφαίρεση

Επιστημονικός Υπεύθυνος: Χαράλαμπος Λεμονίδης

Σχεδιασμός – Δημιουργία: Γενοβέφα Τσιρικήδου

Έκδοση: 1.0

Ημερομηνία: 2-5-2025

Το παρόν αναπτύχθηκε στο πλαίσιο της Πράξης «Συγγραφή, Αξιολόγηση και Ένταξη διδακτικών βιβλίων στο Μητρώο Διδακτικών Βιβλίων και στην Ψηφιακή Βιβλιοθήκη Διδακτικών Βιβλίων» με κωδικό ΟΠΣ (MIS) 6010165, του Προγράμματος «Ανθρώπινο Δυναμικό και Κοινωνική Συνοχή 2021-2027» που υλοποιείται από το Ινστιτούτο Εκπαιδευτικής Πολιτικής και συγχρηματοδοτείται από το Ευρωπαϊκό Κοινωνικό Ταμείο.



ΕΛΛΗΝΙΚΗ ΔΗΜΟΚΡΑΤΙΑ
Υπουργείο Παιδείας, Θρησκευμάτων
και Αθλητισμού



ΙΝΣΤΙΤΟΥΤΟ
ΕΚΠΑΙΔΕΥΤΙΚΗΣ
ΠΟΛΙΤΙΚΗΣ



Με τη συγχρηματοδότηση
της Ευρωπαϊκής Ένωσης



Πρόγραμμα
Ανθρώπινο Δυναμικό και
Κοινωνική Συνοχή