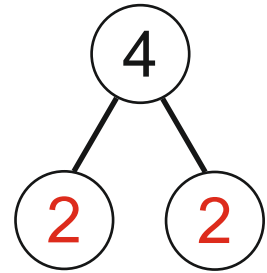
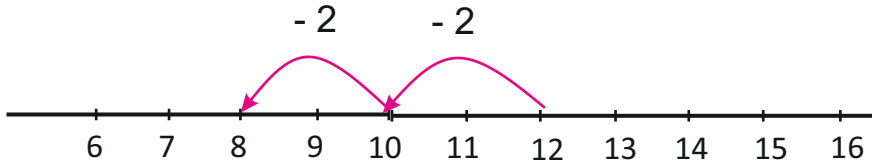


Αφαιρώ με πέρασμα από το 10



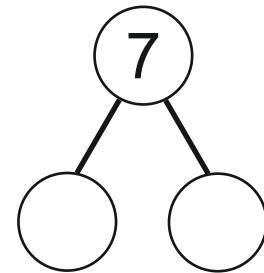
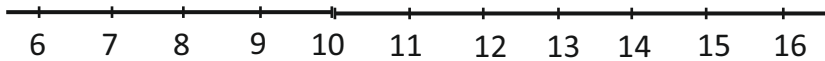
- 1 Υπολογίζω τις αφαιρέσεις, με τη βοήθεια της αριθμογραμμής, περνώντας πρώτα από το 10.

$$12 - 4 = \dots$$



$$12 - \square = 10 \quad 10 - \square = \square \quad \text{Άρα, } 12 - 4 = \square$$

$$13 - 7 = \dots$$



$$13 - \square = 10 \quad 10 - \square = \square \quad \text{Άρα, } 13 - 7 = \square$$

- 2 Η Μαρία είχε 16 ευρώ. Αγόρασε ένα αρκουδάκι που κόστιζε 9 ευρώ. Πόσα χρήματα της έμειναν;



Της έμειναν _____ ευρώ.

Πληροφοριακά στοιχεία

Τίτλος: Αφαιρώ με πέρασμα από το 10

Επιστημονικός Υπεύθυνος: Χαράλαμπος Λεμονίδης

Σχεδιασμός – Δημιουργία: Ιωάννα Καϊάφα

Έκδοση: 1.0

Ημερομηνία: 2-5-2025

Το παρόν αναπτύχθηκε στο πλαίσιο της Πράξης «Συγγραφή, Αξιολόγηση και Ένταξη διδακτικών βιβλίων στο Μητρώο Διδακτικών Βιβλίων και στην Ψηφιακή Βιβλιοθήκη Διδακτικών Βιβλίων» με κωδικό ΟΠΣ (MIS) 6010165, του Προγράμματος «Ανθρώπινο Δυναμικό και Κοινωνική Συνοχή 2021-2027» που υλοποιείται από το Ινστιτούτο Εκπαιδευτικής Πολιτικής και συγχρηματοδοτείται από το Ευρωπαϊκό Κοινωνικό Ταμείο.



ΕΛΛΗΝΙΚΗ ΔΗΜΟΚΡΑΤΙΑ
Υπουργείο Παιδείας, Θρησκευμάτων
και Αθλητισμού



Με τη συγχρηματοδότηση
της Ευρωπαϊκής Ένωσης



Πρόγραμμα
Ανθρώπινο Δυναμικό και
Κοινωνική Συνοχή