


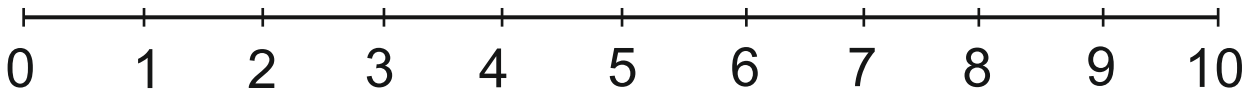



Αφαιρώ με διάφορους τρόπους

- 1 Πόσα περισσότερα είναι τα χρυσάνθεμα από τις παπαρούνες;
Συμπληρώνω βελάκια στην αριθμογραμμή και κάνω την αφαίρεση.



$$\boxed{6} - \boxed{4} = \boxed{}$$



- 2 Ενώνω την αφαίρεση με την πιο κατάλληλη πρόταση.

$$\boxed{10 - 2}$$

Ξεκινώ από το 10 και κατεβαίνω 2 βήματα.

Ξεκινώ από το 2 και ανεβαίνω για να φτάσω στο 10.

$$\boxed{9 - 7}$$

Ξεκινώ από το 7 και ανεβαίνω για να φτάσω στο 9.

Ξεκινώ από το 9 και κατεβαίνω 7 βήματα.

Πληροφοριακά στοιχεία

Τίτλος: Αφαιρώ με διάφορους τρόπους


Επιστημονικός Υπεύθυνος: Χαράλαμπος Λεμονίδης

Σχεδιασμός – Δημιουργία: Σοφία Τσελεπή

Έκδοση: 1.0

Ημερομηνία: 2-5-2025

Το παρόν αναπτύχθηκε στο πλαίσιο της Πράξης «Συγγραφή, Αξιολόγηση και Ένταξη διδακτικών βιβλίων στο Μητρώο Διδακτικών Βιβλίων και στην Ψηφιακή Βιβλιοθήκη Διδακτικών Βιβλίων» με κωδικό ΟΠΣ (MIS) 6010165, του Προγράμματος «Ανθρώπινο Δυναμικό και Κοινωνική Συνοχή 2021-2027» που υλοποιείται από το Ινστιτούτο Εκπαιδευτικής Πολιτικής και συγχρηματοδοτείται από το Ευρωπαϊκό Κοινωνικό Ταμείο.



ΕΛΛΗΝΙΚΗ ΔΗΜΟΚΡΑΤΙΑ
Υπουργείο Παιδείας, Θρησκευμάτων
και Αθλητισμού



Με τη συγχρηματοδότηση
της Ευρωπαϊκής Ένωσης



Πρόγραμμα
Ανθρώπινο Δυναμικό και
Κοινωνική Συνοχή