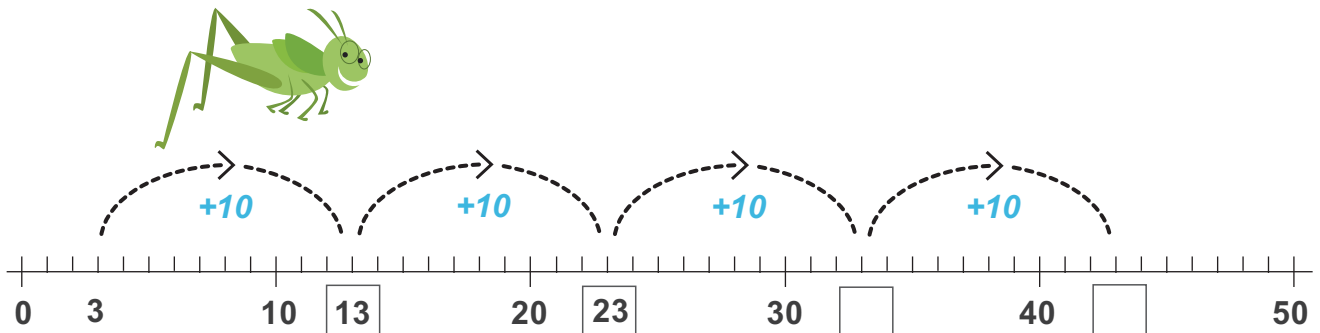


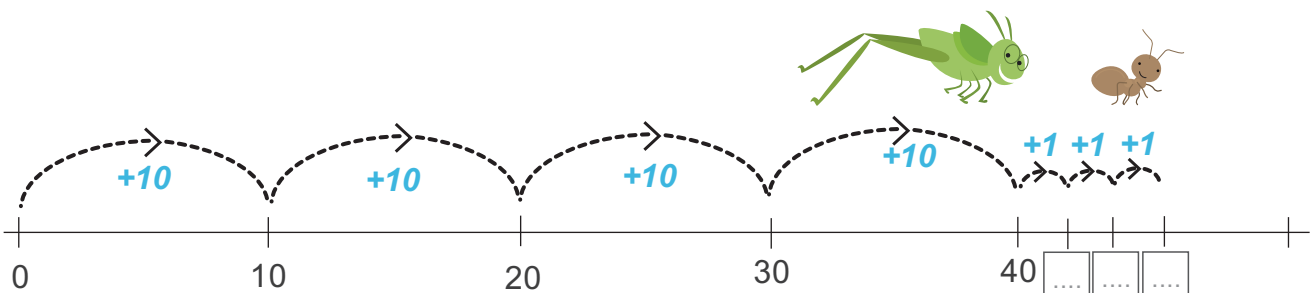
# Μετράμε και υπολογίζουμε στην αριθμογραμμή



- 1 Η Λήδα ξεκινά από το 3 και κάνει άλματα των 10 προς τα εμπρός. Πάει στο 13, 23, ... Συμπληρώνω τους αριθμούς στο σχήμα.

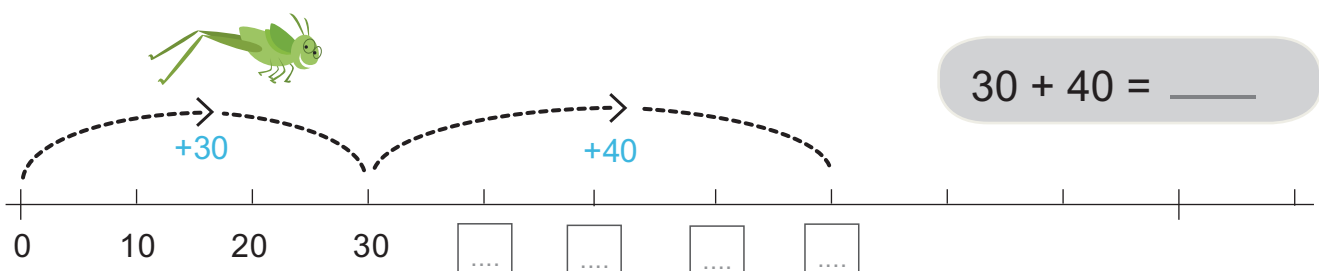


- 2 Η Λήδα έκανε τέσσερα άλματα των 10 εμπρός. Από το σημείο που έφτασε, συνέχισε ο Αλέκος τρία πηδήματα του 1 εμπρός. Σε ποιον αριθμό έφτασε;



Ο Αλέκος έφτασε στον αριθμό

- 3 Η Λήδα θέλει να κάνει την πρόσθεση  $30 + 40$  πάνω στην αριθμογραμμή. Συμπληρώνω τους αριθμούς που λείπουν.



$$30 + 40 = \underline{\quad}$$

Η Λήδα ξεκίνησε από το 0 και έκανε ένα άλμα των        μέχρι το 30.

Από το 30 έκανε ένα άλμα των        μέχρι το       .

## Πληροφοριακά στοιχεία

**Τίτλος:** Μετράμε και υπολογίζουμε στην αριθμογραμμή

**Επιστημονικός Υπεύθυνος:** Χαράλαμπος Λεμονίδης

**Σχεδιασμός – Δημιουργία:** Χαράλαμπος Λεμονίδης

**Έκδοση:** 1.0

**Ημερομηνία:** 2-5-2025

Το παρόν αναπτύχθηκε στο πλαίσιο της Πράξης «Συγγραφή, Αξιολόγηση και Ένταξη διδακτικών βιβλίων στο Μητρώο Διδακτικών Βιβλίων και στην Ψηφιακή Βιβλιοθήκη Διδακτικών Βιβλίων» με κωδικό ΟΠΣ (MIS) 6010165, του Προγράμματος «Ανθρώπινο Δυναμικό και Κοινωνική Συνοχή 2021-2027» που υλοποιείται από το Ινστιτούτο Εκπαιδευτικής Πολιτικής και συγχρηματοδοτείται από το Ευρωπαϊκό Κοινωνικό Ταμείο.



ΕΛΛΗΝΙΚΗ ΔΗΜΟΚΡΑΤΙΑ  
Υπουργείο Παιδείας, Θρησκευμάτων  
και Αθλητισμού



Με τη συγχρηματοδότηση  
της Ευρωπαϊκής Ένωσης



Πρόγραμμα  
Ανθρώπινο Δυναμικό και  
Κοινωνική Συνοχή